


СОДЕРЖАНИЕ

Готовы к тренировкам?	
Тогда сверим наши часы!	2
Математическая разминка на старте	3
ПРОСТЫЕ ЗАДАЧИ НА СЛОЖЕНИЕ И ВЫЧИТАНИЕ В ПРЕДЕЛАХ 10	4
Продолжаем разминку	8
Продолжаем разминку	14
СОСТАВНЫЕ ЗАДАЧИ НА СЛОЖЕНИЕ И ВЫЧИТАНИЕ В ПРЕДЕЛАХ 10	16
Не снижаем темп	22
Усложняем тренировку	28
ЗАДАЧИ НА СЛОЖЕНИЕ И ВЫЧИТАНИЕ В ПРЕДЕЛАХ 20	30
Не снижаем темп	36
Не снижаем темп	44
Наращиваем свои знания	52
ЗАДАЧИ НА СЛОЖЕНИЕ И ВЫЧИТАНИЕ С КРУГЛЫМ ЧИСЛОМ	54
Приближаемся к финишу	60
ОТВЕТЫ	62


**Готовы к тренировкам?
Тогда сверим наши часы!**

- Найди два одинаковых будильника.



2

Ответ: _____



ПРОСТЫЕ ЗАДАЧИ НА СЛОЖЕНИЕ И ВЫЧИТАНИЕ В ПРЕДЕЛАХ 10

**Реши задачи. Запиши ответ.
Проверь своё решение**

1. На одной руке у обезьяны пять пальцев и на другой руке пять пальцев. Сколько пальцев у обезьяны на двух руках?

Ответ: _____

2. У Антона в кармане было 5 орехов. Один он отдал Алёше. Сколько орехов осталось у Антона?

Ответ: _____

3. Рыбак поймал 4 рыбы. Ещё одна рыбка вот-вот клюнет. Сколько рыб будет у рыбака, если она поймается?

Ответ: _____

4. На тарелке лежало 6 пряников. С чаем 5 пряников съели. Сколько пряников осталось?


Ответ: _____

5. На ветке сидели 5 птичек, прилетели ещё 3. Сколько стало птичек?

Ответ: _____

6. Света сорвала 3 ромашки. Потом ещё 1. Сколько ромашек сорвала Света?

Ответ: _____



7. Муха стояла на 6 лапках. Потом одной лапкой она стала тереть голову. На скольких лапках осталась стоять муха?

Ответ: _____

8. Славику 5 лет, а его сестра Таня на 2 года старше. Сколько лет сестре?

Ответ: _____

9. От пола до подоконника 1 м. А от подоконника до потолка 2 м. Сколько метров от пола до потолка?

Ответ: _____

10. Длина гусеницы 2 см, земляной червяк на 3 см длиннее. Какой длины земляной червяк?

Ответ: _____

11. У Вики было 4 куклы. На день рождения ей подарили ещё 3. Сколько кукол стало у Вики?


Ответ: _____

12. На одной руке Вова загнул 1 палец, на другой руке — 4. Сколько всего пальцев загнул Вова?

Ответ: _____

13. В неделе 7 дней. 5 дней дети учатся. Сколько дней они отдыхают?

Ответ: _____



14. У Оли дома было 8 горшков с цветами. 3 она отнесла в школу. Сколько цветов осталось дома?

Ответ: _____

15. Мама дала Стасу в школу 2 персика и 2 яблока. Персики Стас съел сам, а одним яблоком угостил Игоря. Сколько фруктов съел Стас в школе?

Ответ: _____

16. Продавец на рынке продавал 7 арбузов. 6 арбузов у него купили. Сколько арбузов осталось у продавца?

Ответ: _____

17. В детском саду в младшей группе было 4 мальчика и 5 девочек. Сколько всего ребят было в группе?


Ответ: _____

18. На кусте росло 6 помидоров. Два покраснели, и их сорвали. Сколько помидоров осталось?

Ответ: _____

19. В подъезде двухэтажного дома 4 квартиры на первом этаже и 4 квартиры на втором этаже. Сколько квартир в подъезде этого дома?

Ответ: _____



20. Какие числа находятся между числами 5 и 8?

Ответ: _____

21. Перед железнодорожным переездом в ожидании проходящего поезда стоят 5 автомобилей. За переездом стоят ещё 4 автомобиля. Сколько всего автомобилей ожидают открытия переезда?

Ответ: _____

22. На столе стояло 4 глубоких и 4 мелких тарелки. Сколько тарелок стояло на столе?

Ответ: _____

23. В траве около калитки рос один большой гриб свинушка и рядом пять маленьких грибов. Сколько грибов росло в траве около калитки?

Ответ: _____

24. В классе сидели 9 ребят. 4 ушли. Сколько ребят осталось в классе?


Ответ: _____

25. У муравья 6 ног, у паука — на 2 больше. Сколько ног у паука?

Ответ: _____




26. На подоконнике стояло 6 цветков. Наташа протирала пыль и сняла 3. Сколько цветков осталось?

Ответ: _____



Продолжаем разминку

- Помоги насекомым добраться до овощей.



27. Дедушка собрал с одного улья 5 банок мёда, а с другого — на 3 банки больше. Сколько банок мёда собрал дедушка со второго улья?

Ответ: _____

28. В бассейне детского сада занимались плаванием 8 детей. 4 из них были мальчики. Сколько девочек занималось плаванием в бассейне?

Ответ: _____

29. В новом наборе 8 гуашевых красок. Пять красок Настя использовала для своего рисунка. Сколько красок осталось нетронутых?

Ответ: _____

30. На горке стояли 7 ребят. Двое съехали на санках. Сколько ребят осталось на горке?

Ответ: _____

31. В корзинке лежало 10 яблок. Шесть из них были сорта «белый налив», остальные — сорта «кориш». Сколько яблок «кориш» было в корзине?

Ответ: _____

32. Во дворе бегают 9 кур: шесть белые, остальные чёрные. Сколько чёрных кур бегают во дворе?

Ответ: _____

