


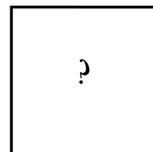
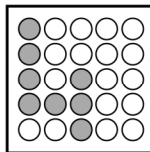

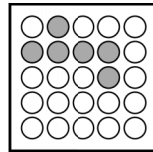
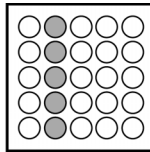



ЗАДАНИЕ 1

Какой фрагмент должен стоять на месте знака вопроса?



А

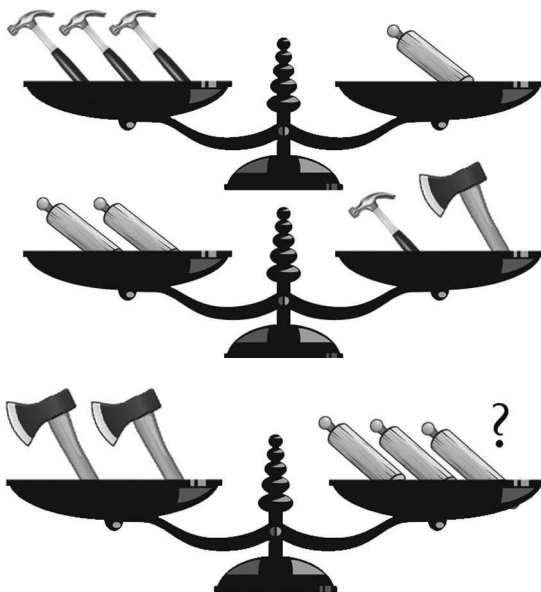
Б


В



ЗАДАНИЕ 2

Какой инструмент или несколько
необходимо поставить вместо знака
вопроса, чтобы уравновесить весы?






ЗАДАНИЕ 3

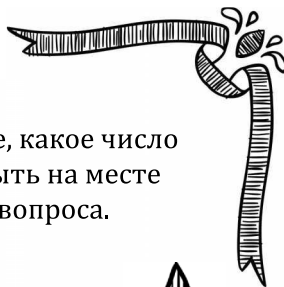


Расшифруйте
слова и назовите
лишнее.




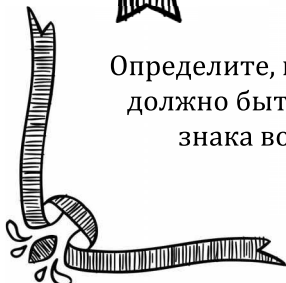
рпажи
ранкебар
вотата
въеллурип
борийна




ЗАДАНИЕ 4



Определите, какое число
должно быть на месте
знака вопроса.






ЗАДАНИЕ 5

Поставьте необходимое число вместо знака вопроса.



3	1	4
7	2	9
1	5	?






Назовите слово, которое завершает
первое слово и начинает второе.
Подсказка: количество точек
соответствует количеству букв в слове.

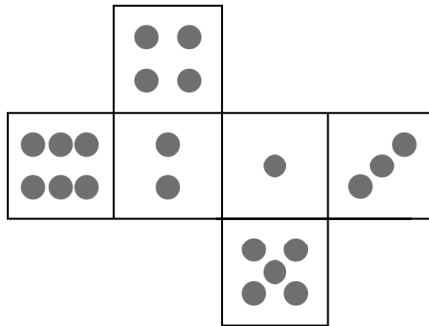
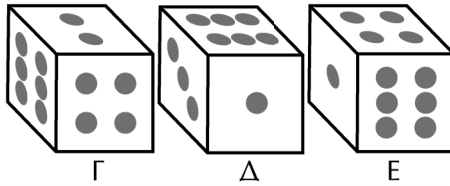
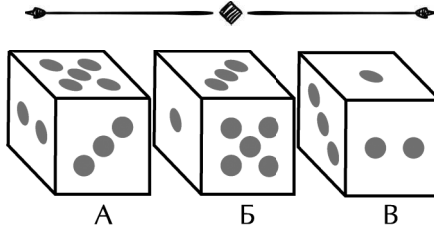
ПОЛ ... ДОК






ЗАДАНИЕ 7

Развертка какого из кубов представлена на рисунке?






Назовите слово, которое имеет оба значения. Подсказка: количество точек соответствует числу букв в слове.

**оптический прибор достижения
в игре**





ЗАДАНИЕ 9

Какое число необходимо
поставить вместо знака
вопроса?




1	2	3
2	1	4
5	6	?

ЗАДАНИЕ 10

Какое число необходимо поставить
вместо знака вопроса?







ЗАДАНИЕ 11



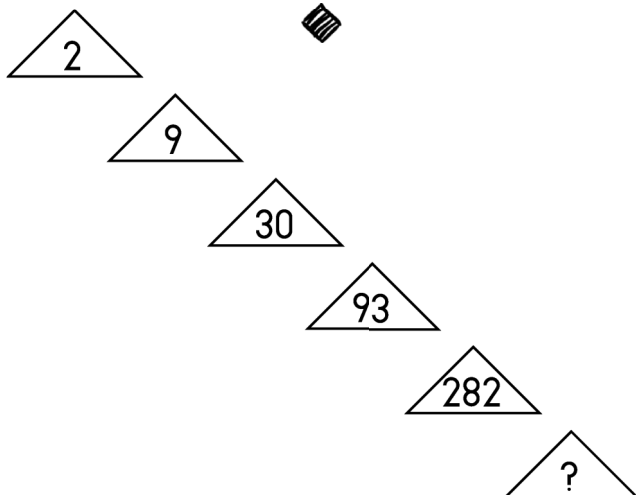
Определите, какое число должно стоять
на месте знака вопроса.






ЗАДАНИЕ 12




Продолжите
последовательность
чисел.





ЗАДАНИЕ 13




Какой фрагмент
должен стоять
вместо знака
вопроса?



А

Б

В



Г

Д

Е



ЗАДАНИЕ 14

Какой предмет необходимо
поставить вместо знака вопроса,
чтобы весы уравнились?

