
















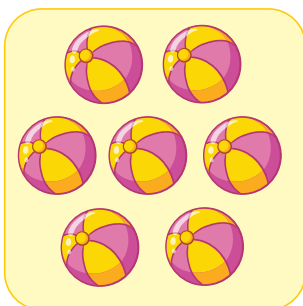
1 2 3 4 5 6 7 8 9 10



А теперь положи карточки с точками на то же самое количество бабочек.

Число и количество

Рассмотри внимательно картинки и сосчитай предметы на них. Затем возьми карточки с точками и положи на каждую картинку карточку с таким же количеством точек, сколько на картинке нарисовано предметов. А теперь возьми карточки с числами и положи на каждую картинку карточку с соответствующим числом.



Посмотри на эти флажки. На каждом написано число от 1 до 10 – это прямой числовой ряд. Какие числа пропущены? Найди карточки с этими числами. Затем возьми все карточки с числами и выложи из них прямой числовой ряд от 1 до 10.

1 2 4 5 7 8 9 10

Посмотри на картинку. Числа на бусинах – это обратный числовой ряд от 10 до 1. Внимательно рассмотри его. Какие числа пропущены? Найди карточки с этими числами. Затем возьми все карточки с числами и выложи из них прямой числовой ряд от 1 до 10.

10

8

7

6

4

3

1

2

10

9

8

7

6

5

4

3

2

1

1

2

3

4

5

6

7

8

9

10

=

0

А теперь положи карточки с цифрами
на то же самое количество улиток.