

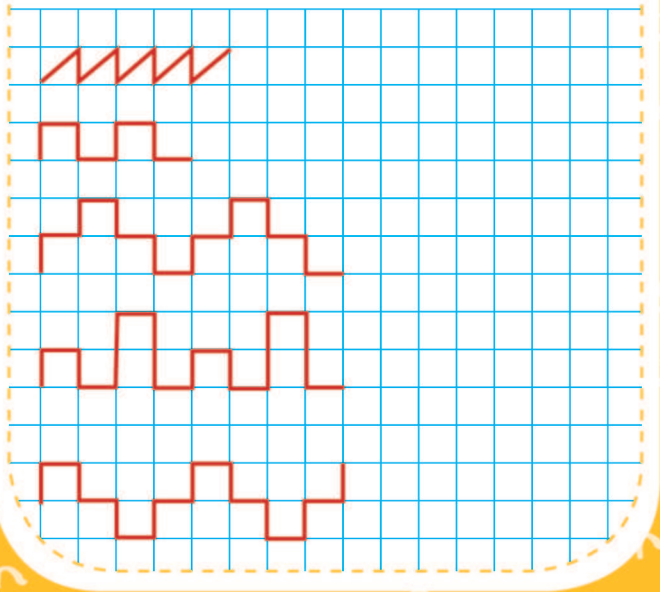
## Урок 1

- Покажи в каждом ряду, что лишнее, и объясни почему.




## Урок 2

- Найди закономерность и продолжи узор.



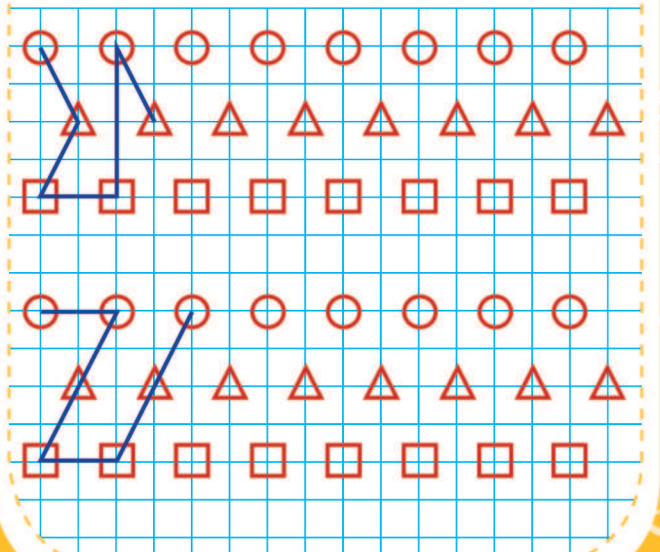
## Урок 3

- Обведи картинки и продолжи ниже: берёзовый листок, дубовый листок, берёзовый листок, дубовый листок.



## Урок 4

- Найди закономерность и заверши чертёж.



## Урок 5

- Выбери картинку с событием, которое произошло сначала, и обведи её зелёным карандашом. Расскажи, что произошло потом.




## Урок 6

- Раскрась кружки так, чтобы:  
1) маленький был между синим и красным, а красный — рядом с зелёным;

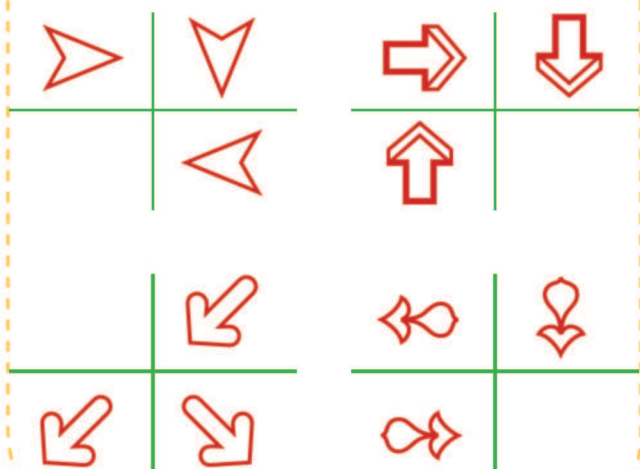


- 2) маленький — между голубым и чёрным, а чёрный — рядом с оранжевым.




## Урок 7

- Найди закономерность и дорисуй четвёртую фигуру.



## Урок 8

- Подумай и ответь.  
1) Батон разрезали на три части. Сколько сделали разрезов?  
2) Буханка хлеба весит полкилограмма и полбуханки. Сколько весит целая буханка?



Так держать!

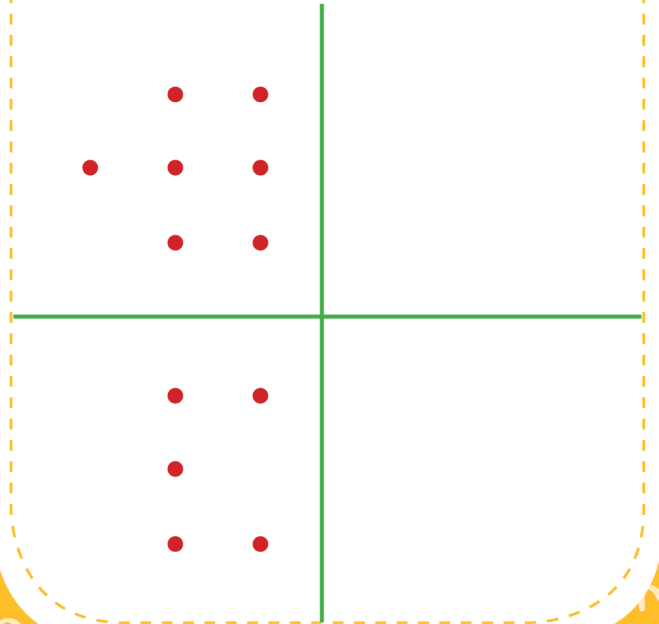
## Урок 9

- Что лишнее? Найди и обведи.



## Урок 10

- Скопируй.



## Урок 11

- Продолжи узор: цветочек, грибочек, грибочек, цветочек.



---

---

---

---

---

---

## Урок 12

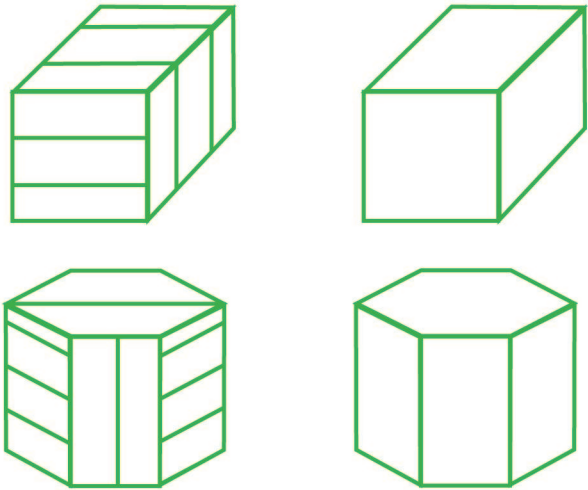
- Скажи, что лишнее, и объясни почему.
  - Рис, рожь, василёк, гречиха.
  - Сыроежка, груздь, ячмень, рыжик.
  - Пшеница, кукуруза, ячмень, рожь.
  - Овёс, мак, василёк, одуванчик.
  - Гречиха, рис, ячмень, подосиновик.
  - Сыроежка, подберёзовик, мухомор.

## Урок 13

- Подумай и ответь.  
1) Пассажир автобуса ехал в деревню. Навстречу ему ехали 5 грузовиков и 3 легковые машины. Сколько машин ехало в деревню?  
2) Над рекой летели птицы: голубь, щука, две синицы, два стрижа и пять угрей. Сколько птиц летело?

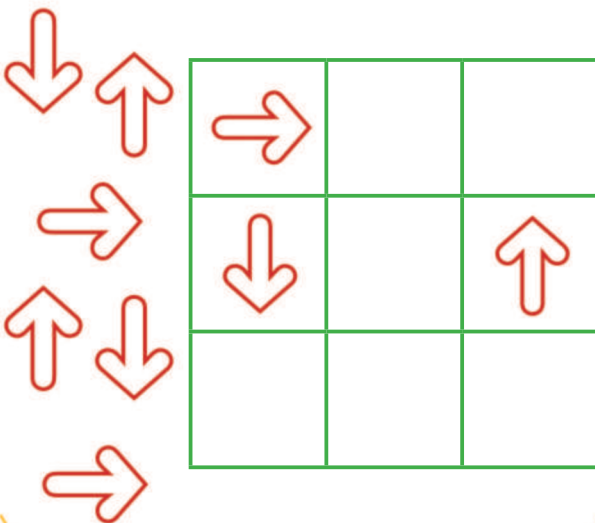
## Урок 14

- Выполни штриховку, как на образцах.




## Урок 15

- Подбери картинки в пустые клетки и объясни свой выбор.



## Урок 16

- Посмотри на картинки. Отметь цифрами последовательность, в которой происходили события.



Ты самый умный!

## Урок 17

- Расположи по порядку — от частного к общему.

③

②

Дерево, лиственное дерево,

①

яблоня.



Апельсин, цитрусовый, фрукт.



Плодовое дерево, слива,



дерево.

## Урок 18

- Продолжи узор: листик, листик, солнышко, солнышко, листик, солнышко, солнышко, листик, листик.




## Урок 19

- Скажи, что лишнее, и объясни почему.
  - Муха, щука, лисица, камень.
  - Облако, солнце, птица, дождь.
  - Дуб, лисички, опята, подберёзовик.
  - Овёс, ячмень, картофель, пшеница.
  - Кукла, машинка, мячик, ручка.
  - Карандаш, тетрадь, юла, линейка.

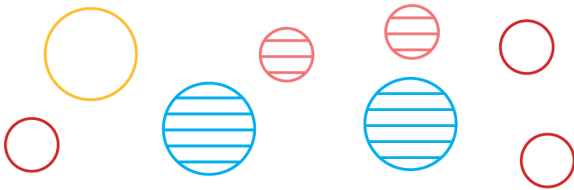
## Урок 20

- Покажи, что лишнее, и объясни почему.



## Урок 21

- Распредели фигуры в рамки в соответствии с их признаками.




## Урок 22

- Найди ошибку в каждом ряду.



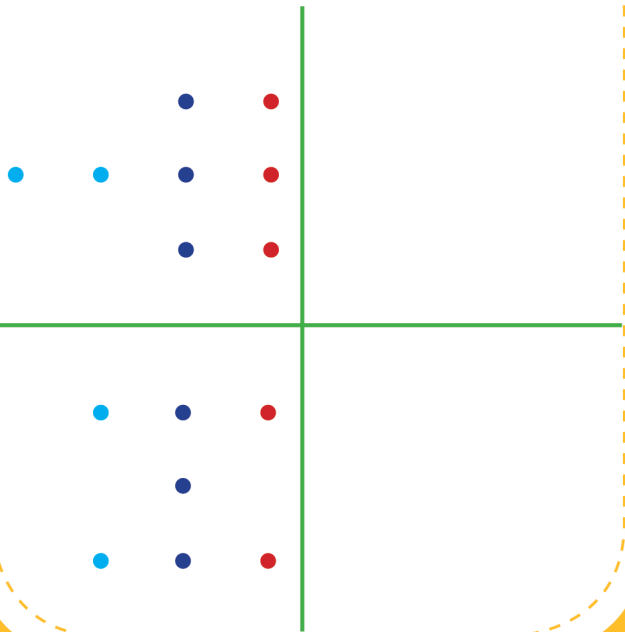
## Урок 23

- Продолжи узор: месяц, солнце, тучка, тучка.



## Урок 24

- Скопируй.



Отличная работа!


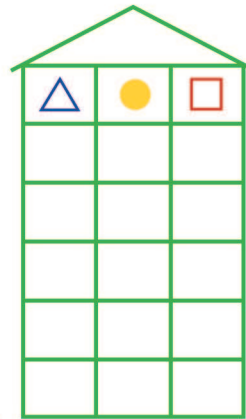
## Урок 25

- Покажи, что лишнее, и объясни почему.



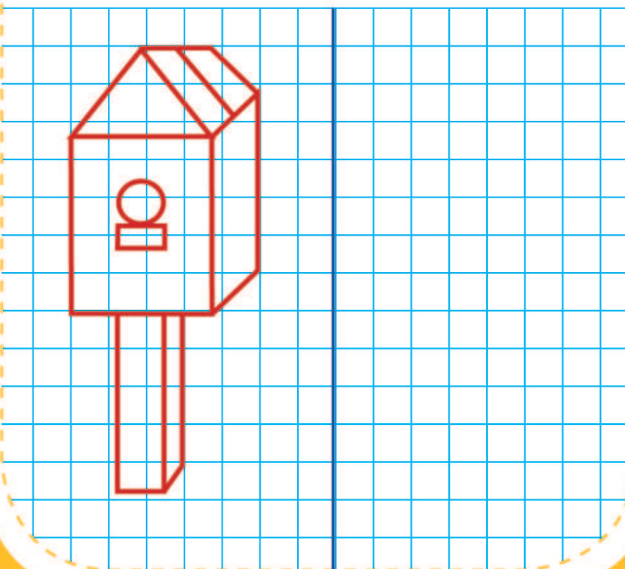
## Урок 26

- Найди закономерность и «рассели» фигуры так, чтобы на каждом этаже они были расположены по-разному.




## Урок 27

- Повтори рисунок.



## Урок 28

- Расставь цифры по образцу.



## Урок 29

- Какую фигуру из трёх нужно поставить на свободное место? Покажи и нарисуй.



## Урок 30

- Раскрась кружки так, чтобы:
  - 1) маленький был между фиолетовым и жёлтым, а жёлтый — рядом с красным;



- 2) маленький — между синим и красным, а красный — рядом с зелёным.



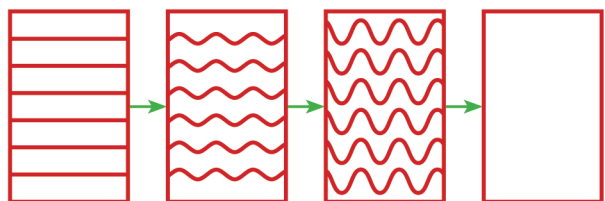
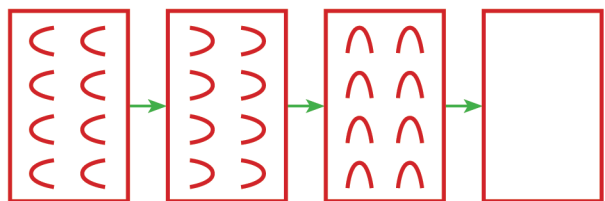
## Урок 31

- Подумай и ответь.
  - 1) Сидят 3 собаки. Напротив каждой собаки — 2 собаки. Сколько всего собак?
  - 2) Что легче: 1 кг ваты или 1 кг железа?
  - 3) Бублик разрезали на три части. Сколько сделали разрезов?



## Урок 32

- Найди закономерность. Обведи и дорисуй.






## Урок 33

- Какую фигуру из трёх нужно поставить на свободное место? Покажи и нарисуй.




## Урок 34

- Покажи, что лишнее, и объясни почему.



## Урок 35

- Подумай и ответь.  
1) Марина сидела справа от Тани, а Юра сидел справа от Кати. В каком порядке могли сидеть дети?  
2) У рака 10 ног, а у пчёлки — на 4 меньше. Сколько ног у пчёлки?



## Урок 36

- Где листиков больше — на дереве или под деревом? Раскрась под деревом столько листиков, сколько их на дереве.

